



ΟΔΗΓΙΕΣ

1. Οι απαντήσεις και η αναλυτική λύση των θεμάτων θα γίνει γραπτώς στο **Φύλλο Απαντήσεων** που θα βρείτε αμέσως μετά τις εκφωνήσεις.
2. Όπου ζητούνται γραφήματα θα σχεδιαστούν στους ειδικούς χώρους του **Φύλλου Απαντήσεων**.
3. Τα ονομαστικά στοιχεία θα συμπληρωθούν στο αντίστοιχο πλαίσιο του **Φύλλου Απαντήσεων**.
4. Στο τέλος της εξέτασης θα παραδώσετε **μόνο το Φύλλο Απαντήσεων**.


ΘΕΩΡΗΤΙΚΟ ΜΕΡΟΣ

1^ο ΘΕΜΑ

A.1. Τι θα συμβεί στη μαγνητική βελόνα, που ισορροπεί προσανατολισμένη λόγω του μαγνητικού πεδίου της Γης, αν στο κύκλωμα της διπλανής εικόνας κλείσουμε τον διακόπτη;

- α) η βελόνα θα παραμείνει στη θέση της,
- β) η βελόνα θα αποκλίνει από τη θέση της,
- γ) δεν έχουμε αρκετά στοιχεία για να απαντήσουμε.

Επιλέξτε τη σωστή απάντηση και καταγράψτε τη στο φύλλο απαντήσεων, αιτιολογώντας την επιλογή σας.



A.2. Σε ένα Εργαστήριο Φυσικής υπάρχουν τέσσερα κουτιά γεμάτα με αντιστάσεις (K_1, K_2, K_3 και K_4). Συγκεκριμένα, το κουτί K_1 έχει αντιστάσεις $R_1 = 2\Omega$, το κουτί K_2 έχει αντιστάσεις $R_2 = 6\Omega$, το κουτί K_3 έχει αντιστάσεις $R_3 = 8\Omega$ και το κουτί K_4 έχει αντιστάσεις $R_4 = 4\Omega$.



K1



K2



K3



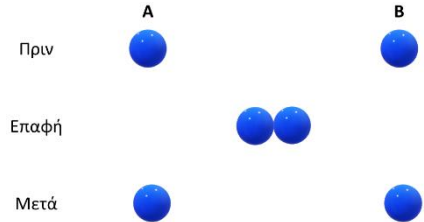
K4

Προσπαθήστε να προτείνετε αιτιολογημένα (στο φύλλο απαντήσεων) έναν τρόπο σύνδεσης αυτών των αντιστάσεων ώστε να κατασκευαστεί μια ισοδύναμη αντίσταση $R_{ολ} = 11\Omega$, χρησιμοποιώντας όμως τον ελάχιστο δυνατό αριθμό αντιστάσεων από κάθε κουτί.

Έχετε κατά νου ότι η ισοδύναμη αντίσταση: στη σύνδεση σε σειρά αυξάνεται και είναι μεγαλύτερη από την τιμή της μεγαλύτερης αντίστασης που χρησιμοποιήθηκε και στην παράλληλη σύνδεση η ισοδύναμη αντίσταση μειώνεται διαρκώς καθώς προστίθενται αντιστάσεις.

2^ο ΘΕΜΑ

Έστω ότι διαθέτουμε 2 όμοιες μικρές μεταλλικές σφαίρες A και B, οι οποίες κρατούνται σε μικρή απόσταση η μια από την άλλη και έχουν ηλεκτρικό φορτίο $q_A = +15\mu C$ και $q_B = -5\mu C$ αντίστοιχα. Φέρνουμε σε επαφή τις δυο σφαίρες και στη συνέχεια τις απομακρύνουμε ώστε να βρίσκονται στην ίδια αρχική απόσταση μεταξύ τους.



B.1. Να σχεδιάσετε ποιοτικά, στο σχήμα του φύλλου απαντήσεων, τις ηλεκτρικές δυνάμεις με τις οποίες αλληλεπιδρούν οι δυο σφαίρες πριν και μετά την επαφή τους.

B.2. Να υπολογίσετε τα φορτία των σφαιρών A (q'_A) και B (q'_B) μετά την επαφή τους.

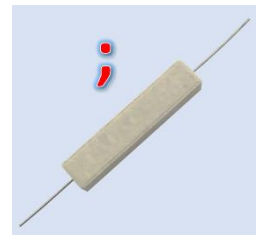
B.3. Αν F είναι το μέτρο της δύναμης που δέχεται η σφαίρα A από τη B πριν την επαφή τους και F' το μέτρο της δύναμης που δέχεται η σφαίρα A από τη B μετά την επαφή τους, τότε θα ισχύει:

α) $\frac{F}{F'} = 3$ β) $\frac{F}{F'} = 1$ γ) $\frac{F}{F'} = \frac{1}{3}$

Να επιλέξετε τη σωστή απάντηση και να αιτιολογήσετε την επιλογή σας στο φύλλο απαντησεων.

3^ο ΘΕΜΑ

Ένας μαθητής ενδιαφέρεται να διαπιστώσει αν μια αντίσταση που διαθέτει ακολουθεί τον νόμο του Ωμ (Ohm). Για τον σκοπό αυτό, μεταβάλλει την τάση που εφαρμόζεται στα άκρα της αντίστασης και με ένα αμπερόμετρο μετρά την ένταση του ρεύματος που τη διαρρέει. Τελικά, κατέγραψε τα αποτελέσματά του στον παρακάτω πίνακα:



$V (V)$	$I (A)$
2	0,1
4	0,2
6	0,3
8	0,4
10	0,5

Γ.1. Στο φύλλο απαντήσεων, να επεξεργαστείτε κατάλληλα τα δεδομένα του πίνακα, ώστε να διαπιστώσετε αν η αντίσταση αυτή (αντίσταση 1) είναι ωμική. Ακολούθως, να προσδιορίσετε την τιμή της σε Ω.

(Για τη μελέτη σας μπορείτε να χρησιμοποιήσετε και το χιλιοστομετρικό χαρτί)

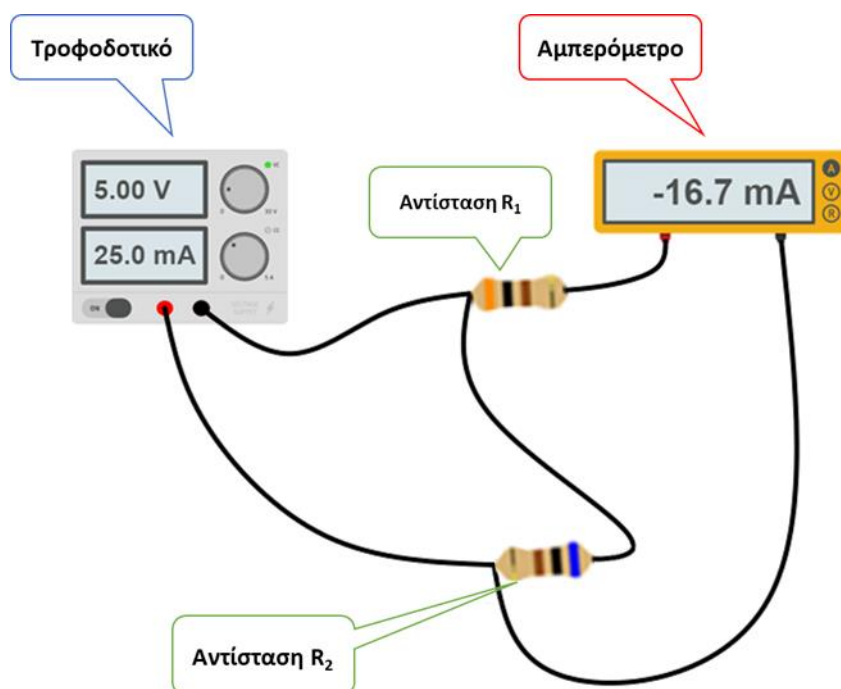


Γ.2. Στη συνέχεια, ο μαθητής συνδέει στους πόλους μιας ηλεκτρικής πηγής την αντίσταση 1 σε σειρά με μια άλλη αντίσταση που γνωρίζει ότι είναι ωμική (αντίσταση 2). Κλείνει τον διακόπτη και παρατηρεί ότι η ένδειξη του αμπερομέτρου το οποίο μετρά την ένταση του ρεύματος που διαρρέει την πηγή γίνεται $0,2A$. Αν η αντίσταση 2 έχει τιμή $R_2 = 40\Omega$, να προσδιορίσετε τη διαφορά δυναμικού στα άκρα των δυο αντιστάσεων (1 και 2) στο φύλλο απαντήσεων.

Γ.3. Σε χρόνο $\Delta t = 2min$ να προσδιορίσετε την ενέργεια που προσφέρει η πηγή στο κύκλωμα, καθώς και την ενέργεια που καταναλώνεται στις δύο αντιστάσεις. Τι παρατηρείτε; Καταγράψτε την απάντησή σας στο φύλλο απαντήσεων.

ΠΕΙΡΑΜΑΤΙΚΟ ΜΕΡΟΣ

Μια ομάδα από μαθήτριες στο Εργαστήριο Φυσικής κατασκεύασε το κύκλωμα που παρουσιάζεται στην παρακάτω εικόνα.



Ως ηλεκτρική πηγή χρησιμοποίησαν ένα τροφοδοτικό το οποίο έδειχνε κάθε στιγμή την τάση που υπήρχε στα άκρα του, αλλά και την ένταση του ρεύματος που το διέρρεε. Χρησιμοποίησαν, ακόμη, δύο αντιστάσεις (R_1 και R_2), ένα αμπερόμετρο και πέντε καλώδια. Στη συνέχεια, μετέβαλλαν την τάση του τροφοδοτικού ώστε να παίρνει διαδοχικές ακέραιες τιμές από $1V$ έως $5V$. Ταυτόχρονα, κατέγραφαν κάθε φορά τις ενδείξεις των οργάνων στον πίνακα που ακολουθεί.



Ενδείξεις τροφοδοτικού		Ένδειξη αμπερομέτρου (mA)
Τάση (V)	Ένταση (mA)	
1,00	5,0	-3,3
2,00	10,0	-6,7
3,00	15,0	-10,0
4,00	20,0	-13,3
5,00	25,0	-16,7

Τέλος, ο καθηγητής που τις επέβλεπε στο εργαστήριο, τους υπέδειξε να μη λάβουν υπόψη τους το αρνητικό πρόσημο από τις ενδείξεις του αμπερομέτρου στους υπολογισμούς τους.

Δ.1. Πού νομίζετε ότι οφείλεται το αρνητικό πρόσημο στις ενδείξεις του αμπερομέτρου; Συμπληρώστε αιτιολογημένα την απάντησή σας στο φύλλο απαντήσεων.

Δ.2. Πώς ήταν συνδεδεμένες οι δυο αντιστάσεις; Σε σειρά, παράλληλα ή τίποτα από τα δύο; Συμπληρώστε αιτιολογημένα την απάντησή σας στο φύλλο απαντήσεων.

Δ.3. Στον κατάλληλο χώρο του φύλλου απαντήσεων, να σχεδιάσετε τη σχηματική αναπαράσταση του κυκλώματος.

Δ.4. Με βάση τις πειραματικές τιμές, να σχεδιάσετε στο φύλλο απαντήσεων, σε κοινό σύστημα αξόνων, τις γραφικές παραστάσεις:

Δ.4.1. της έντασης του ρεύματος που διέρρεε το τροφοδοτικό σε συνάρτηση με την τάση του ίδιου του οργάνου.

Δ.4.2. της έντασης του ρεύματος που διέρρεε το αμπερόμετρο σε συνάρτηση με την τάση τροφοδοτικού.

Δ.5. Να υπολογίσετε την τιμή της αντίστασης R_1 σε Ω (στρογγυλοποιήστε το αποτέλεσμα σε ακέραια τιμή).

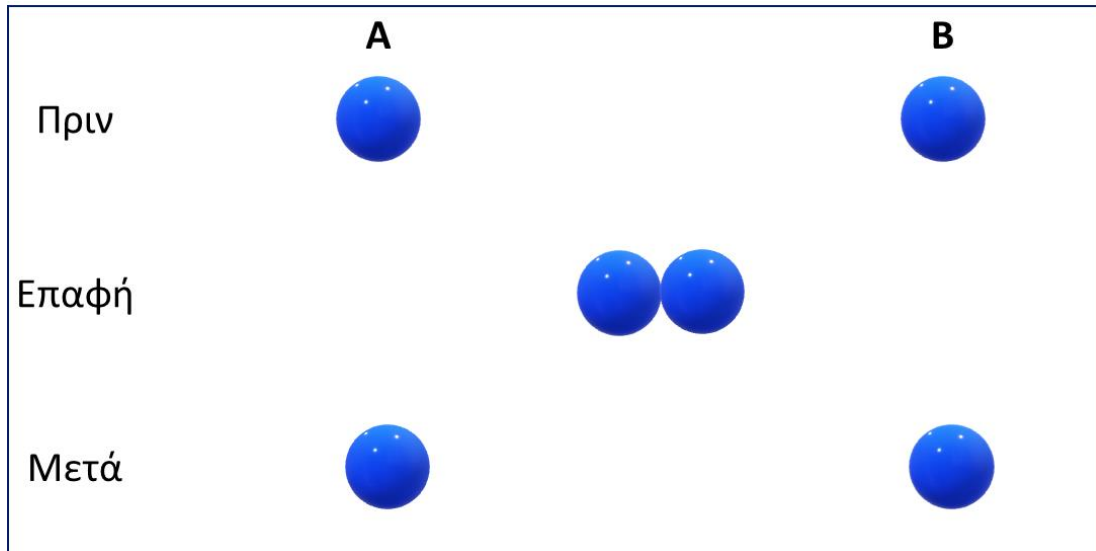
Δ.6. Να υπολογίσετε την τιμή της αντίστασης R_2 σε Ω (στρογγυλοποιήστε το αποτέλεσμα σε ακέραια τιμή).

Σημείωση: για την επεξεργασία των θεμάτων σας να θεωρήσετε τα καλώδια, το αμπερόμετρο και το τροφοδοτικό ιδανικά.

Καλή Επιτυχία

2^ο ΘΕΜΑ

B.1.



B.2.

Το φορτίο της σφαίρας A, μετά την επαφή, είναι $q'_A = \dots\dots\dots$.

Το φορτίο της σφαίρας B, μετά την επαφή, είναι $q'_B = \dots\dots\dots$.

Αυτό γιατί

.....

.....

.....

.....

.....

.....

B.3. Η σωστή απάντηση είναι η Αυτό γιατί

.....

.....

.....

.....

.....

.....

.....


.....



3^ο ΘΕΜΑ

Γ.1. Η τιμή της αντίστασης 1 είναι ίση με Ω , αφού:

.....
.....



.....
.....
.....
.....

Γ.2.

Η τιμή διαφοράς δυναμικού στα άκρα της αντίστασης 1 είναι ίση με V και
η τιμή διαφοράς δυναμικού στα άκρα της αντίστασης 2 είναι ίση με V , αφού:

.....
.....
.....
.....
.....
.....



Γ.3. Η ενέργεια που προσφέρει η πηγή σε $2min$ στο κύκλωμα είναι $E_{πηγ} = \dots\dots\dots J$.

Η ενέργεια που καταναλώνεται σε $2min$ στην αντίσταση 1 είναι $Q_1 = \dots\dots\dots J$.

Η ενέργεια που καταναλώνεται σε $2min$ στην αντίσταση 2 είναι $Q_2 = \dots\dots\dots J$.

Παρατηρώ ότι

.....

.....

.....

ΠΕΙΡΑΜΑΤΙΚΟ ΜΕΡΟΣ

Δ.1.

.....

.....

.....

.....

.....

.....

Δ.2. Οι αντιστάσεις είναι συνδεδεμένες

.....

.....

Δ.3.

Δ.4. (Δ.4.1. και Δ.4.2.)

